



RÉPUBLIQUE
FRANÇAISE

Liberté
Égalité
Fraternité



BN1X23V1

CONCOURS EXTERNE ET INTERNE SESSION 2023

POUR LE RECRUTEMENT DE CONTRÔLEURS DES DOUANES ET DROITS INDIRECTS

BRANCHE DE LA SURVEILLANCE — SPÉCIALITÉ « MAINTENANCE NAVALE »

ÉPREUVE ÉCRITE D'ADMISSIBILITÉ N° 1

(DURÉE : 2 HEURES 30 — COEFFICIENT 4)

QUESTIONNAIRE À CHOIX MULTIPLE ET/OU À RÉPONSES
COURTES PORTANT SUR LA GÉOGRAPHIE DES FLUX DANS
LE MONDE, SUR LES DROITS ET DEVOIRS DU CITOYEN ET
DU FONCTIONNAIRE, SUR LES MISSIONS ET
L'ORGANISATION DE LA DIRECTION GÉNÉRALE DES
DOUANES ET DROITS INDIRECTS ET FAISANT APPEL AU
RAISONNEMENT LOGIQUE ET MÉCANIQUE

AVERTISSEMENTS IMPORTANTS

L'usage de tout document ou matériel autre que le matériel usuel d'écriture et de tout document autre que le support fourni **est interdit**.

Toute fraude ou tentative de fraude constatée par la commission de surveillance entraînera **l'exclusion du concours**.

La copie ne saurait comporter de **nom, initiales, paraphe, signature, lieu géographique ou tout autre élément ou signe distinctif** susceptibles de permettre l'identification du candidat. Le non-respect de cette consigne entraînera l'exclusion du concours.

Veillez à bien paginer vos copies.

Il est interdit de quitter définitivement la salle d'examen **avant le terme de la deuxième heure**.

Le présent document comporte **7 pages** numérotées.

Tournez la page, SVP

- *Tous les exercices et toutes les questions doivent être traités sur la copie prévue à cet effet.*
- *Aucune réponse ne devra être portée sur le sujet lui-même.*
- *Chaque réponse devra être justifiée et devra être précédée du numéro de la question à laquelle elle se rapporte.*

I – Géographie des flux dans le monde

1 – Citer les frontières terrestres de la France.

Réponse entre 10 à 15 lignes.

2 – Quels sont les enjeux des nouvelles routes de la soie ?

Réponse entre 10 à 15 lignes.

II - Droits et devoirs du citoyen et du fonctionnaire

1 – « La France est une République indivisible, laïque, démocratique et sociale ».

Expliquer chacun des 4 principes fixés par la Constitution du 4 octobre 1958.

Réponse entre 10 à 15 lignes.

2 – Quelle est l'étendue de l'obligation d'obéissance hiérarchique pour un fonctionnaire ?

Réponse en 10 lignes.

III – Missions et organisation de la direction générale des douanes et droits indirects

1 - Gabriel Attal lance un nouveau plan pour lutter contre le trafic de cigarettes.

A l'occasion du congrès annuel de la Confédération des buralistes, qui se tient jeudi et vendredi, Gabriel Attal, ministre des Comptes publics, s'est dit « déterminé à lutter sans relâche contre les trafics de tabac ». Il a présenté un plan qui sera « finalisé d'ici à la fin de l'année ».

Les services des Douanes se verront dotés de « 9 nouveaux scanners mobiles de nouvelle génération », dont le nombre sera porté à « 20 d'ici à la fin 2025 », ainsi que « 2 scanners industriels pour améliorer les contrôles des colis postaux et du fret express », a-t-il dit devant les 600 buralistes réunis.

En outre, seront déployés des « groupes de lutte anti-traffic de tabac dans les grandes agglomérations », inspirés de celui mis en place à Lyon, qui « s'attaqueront aux organisations criminelles et mèneront des opérations coups de poing ».

La « cellule cyber-douanes sera décentralisée, étendue aux services locaux d'enquête » pour mieux traquer les ventes illicites en ligne, car « désormais **les trafics locaux passent aussi par les réseaux sociaux** et passent sous les radars ».

En 2020-2022, « 1 046 tonnes de tabac ont été saisies, soit 49 affaires par jour, et à fin août 2022, 464 tonnes de tabac avaient été interceptées par la Douane, contre 402 sur toute l'année 2021 (...). Si cette tendance se poursuit, l'augmentation des saisies pourrait atteindre 73 % en 2022 », a rapporté le ministre.

Mais outre l'enjeu de santé publique, le ministre rappelle qu'il s'agit d'enrayer « un préjudice pour l'État et la Sécurité sociale de 2,5 à 3 milliards d'euros par an, pour 500 millions de TVA non recouvrée ».

Ces chiffres traduisent « une implication très forte de la Douane » mais aussi le fait que « les trafics continuent à augmenter » ce qui doit pousser le gouvernement à les combattre « plus efficacement », a jugé le ministre sous des applaudissements nourris, promettant aussi un « renforcement des sanctions pénales » sur lequel « une réflexion est en cours » avec le ministre de la Justice. Une prochaine circulaire va mobiliser les préfets sur la lutte contre les ventes illicites de tabac.

Ces trafics sont évidemment directement liés au prix du paquet de cigarettes qui dépasse les 10 euros. C'est encore insuffisant pour le Comité National Contre le Tabagisme (CNCT) qui, fin septembre, demandait que « les hausses de taxes » à venir doivent s'appliquer à « tous les produits ».

Pour le CNTC, « les hausses de taxes sont l'outil le plus efficace et le plus rentable pour faire diminuer la consommation de tabac, comme le montre l'ensemble de la littérature scientifique », en particulier « auprès des jeunes générations et des catégories les plus précaires, plus sensibles à l'argument du prix ».

Si l'association anti-tabac « soutient l'initiative gouvernementale d'indexer le prix du tabac sur l'inflation », elle estime en revanche « qu'en-deçà de 70 centimes par paquet, les hausses de prix, vu le caractère particulièrement addictif du tabac » ne « feront que pénaliser le pouvoir d'achat des fumeurs », mais sans créer le choc, l'effet de seuil dissuasif recherché.

Source : Contrebande : Gabriel Attal lance un nouveau plan pour lutter contre le trafic de cigarettes (latribune.fr) – 21 octobre 2022

A) Quels sont les enjeux de la lutte contre la contrebande de tabac ?

Réponse entre 10 à 15 lignes.

B) « Les trafics locaux passent aussi par les réseaux sociaux ».

Expliquer cette phrase en 10 lignes.

C) À partir de vos connaissances personnelles, citer les services de la DGDDI qui participent à la lutte contre le trafic de cigarettes ?

Réponse entre 20 à 30 lignes.

2 - A l'aide du document ci-dessous, expliquer en 5 lignes maximum le rôle de la Douane dans l'action de l'État en mer.

La fonction garde-côtes et l'action de l'État en mer

L'Action de l'État en mer (AEM) désigne l'ensemble des opérations maritimes menées par le Gouvernement dans l'intérêt public, sur ses propres ressources, à l'exception des missions de défense. Les préfets maritimes, ou les délégués du Gouvernement pour l'action de l'État en mer outre-mer, représentants directs du Premier ministre et de chacun des membres du Gouvernement, sont les responsables de l'AEM dans leur zone maritime respective. Le Secrétaire général de la mer anime et coordonne les actions, sous l'autorité du Premier ministre.

La fonction garde-côtes organise la coordination et la mutualisation des moyens de l'ensemble des administrations intervenant en mer et sur le littoral. Le SGMer préside le comité directeur de la fonction, outil de coordination et de définition des politiques conduites au titre de la fonction garde-côtes. La Société nationale de sauvetage en mer y est aussi associée.

Le Centre opérationnel de la fonction garde-côtes, placé sous la responsabilité du SGMer, effectue de la veille et de l'analyse de la situation maritime, partage ces informations entre les autorités politiques et administratives, déclenche des alertes et suit les crises.

Les moyens utilisés

Des centres de commande et d'alerte des administrations

10 représentants de l'État en mer

145 moyens aériens

10 Centres régionaux opérationnels de surveillance et de sauvetage (CROSS) + 59 sémaphores

229 moyens nautiques

8 entités participent à la fonction garde-côtes

Mairie nationale - Gendarmerie maritime
Gouvernement national - Affaires maritimes
Direction Générale des Outre-Mer - Douanes
Police aux frontières - Sécurité civile



Un important espace maritime à gérer et à valoriser

10,2m km² de Zone Économique Exclusive
19 000 km de côtes
Une présence dans tous les océans

--	--	--	--	--	--	--	--	--	--

45 missions en mer incombant à l'État, regroupées en 10 domaines

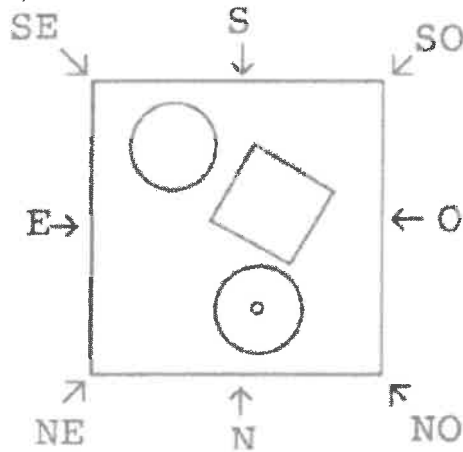
IV – Raisonnement logique et mécanique

Consignes :

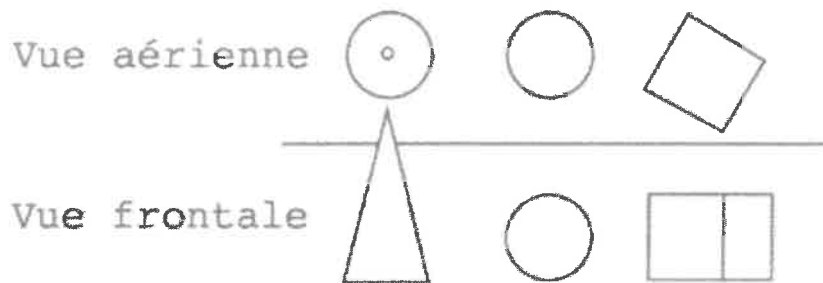
- il ne vous est pas demandé de justifier votre réponse ;
- l'absence de réponse est moins pénalisée qu'une réponse fausse.

1 - Un cône, un cube et une sphère sont disposés sur une table. On trouve ci-dessous leur représentation de plusieurs points de vue :


- la table vue du dessus (S représente le Sud, N le Nord, O l'Ouest et E l'Est) :



- schématisation dans l'ordre du cône, de la sphère et du cube, vue du dessus et vue de face :



L'image suivante représente une vue selon un axe de visée.



Déterminer le point de vue de l'image :

- A) O (Ouest)
- B) NE (Nord-Est)
- C) SE (Sud-Est)
- D) SO (Sud-Ouest)

2 - Quelle opération complète de manière logique ce carré magique ?


6×2	$1 + 4$	$20 / 2$
$7 / 1$	3×3	$5 + 6$
$4 + 4$?	2×3

- A) $8 / 2$
- B) $150 / 15$
- C) $64 / 8$
- D) $26 / 2$

3 - Si $Q + T = S$ et si $Q \times T = D$ alors $Q - T = ?$

- A) R
- B) U
- C) Y
- D) Z

4 - Quel(s) patron(s) permet(tent) de construire un pavé droit ?



- A) Patron A
- B) Patron B
- C) Patron C
- D) Patrons B et C
- E) Aucun des patrons

5 - Combien de tour(s) fait la roue B quand la roue A fait deux tours complets ?



- A) 0,5 tour
- B) 1 tour
- C) 2 tours
- D) 3 tours
- E) 4 tours

